

St. PBN PUBLIC SCHOOL, GURUGRAM

UT – 4 CLASS – UKG

SUBJECT – ENGLISH

(SAMPLE PAPERS)

Time – 2 hours

MM – 35

Name - _____

Roll no.- _____

Q-1. One – Many :

(1×5=5)

1. Cap - _____
2. Kid - _____
3. Pot - _____
4. Bag - _____
5. Dog - _____

Q-2. Opposite words:

(1×5=5)

1. In - _____
2. Up - _____
3. Fast - _____
4. Fat - _____
5. Hot - _____

Q-3. Use of ‘a’ and ‘an’ :

(1×4=4)

1. _____ book.
2. _____ duck.
3. _____ ox.
4. _____ Inkpot.

Q-4. Use of ‘in’ and ‘on’:

(1×4=4)



1. A lion _____ a den.

2. A cat ____ a bed.



3. A rat _____ a box.





4. A toy ____ a mat.





Q-5. Use of 'This' and 'That':


(1×5=5)

1.is an apple. 

2.is a dog.. 


3.is a cat. 

4.is a doll. 

5.is a hat. 

Q-6. Use of 'These' and 'Those' :

(1×5=5)



Q-7. Write the 7 days of the week:

$$1 \times 7 = 7$$

1. _____

2. _____

3. _____

4. _____

5. _____

6. _____

7. _____

St.PBN PUBLIC SCHOOL, GURUGRAM
UT-4 (SAMPLE PAPER)
CLASS – UKG
SUBJECT – MATHEMATICS

Time- 2 hours

MM-35

Q-1. Table of 2:

(1×5=5)

$$2 \times 1 =$$

$$2 \times 2 =$$

$$2 \times 3 =$$

$$2 \times 4 =$$

$$2 \times 5 =$$

$$2 \times 6 =$$

$$2 \times 7 =$$

$$2 \times 8 =$$

$$2 \times 9 =$$

$$2 \times 10 =$$

Q-2. Write number names:

(1×6=6)

1. 42 - _____

2. 44 - _____

3. 45 - _____

4. 48 - _____

5. 47 - _____

6. 50 - _____

Q-3. Skip counting by 2:

(1×8=8)

1. 7, ____, 11, ____ 15.

2. 6, ____, 10, ____ 14.

3. 36,38, _____,_____,44.

4. 42,_____,46,_____.

5. 81,83,_____,_____,89.

6. 5,_____,9,_____,13.

7. 13,_____,_____,19.

8. 91,93,_____,97,_____.

Q-4. Add the numbers:

(1×8=8)

$$\begin{array}{r} 25 \\ + 34 \\ \hline \\ \hline \end{array}$$

$$\begin{array}{r} 62 \\ + 34 \\ \hline \\ \hline \end{array}$$

$$\begin{array}{r} 80 \\ + 15 \\ \hline \\ \hline \end{array}$$

$$\begin{array}{r} 42 \\ + 35 \\ \hline \\ \hline \end{array}$$

$$\begin{array}{r} 68 \\ + 11 \\ \hline \\ \hline \end{array}$$

$$\begin{array}{r} 37 \\ + 42 \\ \hline \\ \hline \end{array}$$

$$\begin{array}{r} 25 \\ + 54 \\ \hline \\ \hline \end{array}$$

$$\begin{array}{r} 38 \\ + 51 \\ \hline \\ \hline \end{array}$$

Q-5. Subtract the numbers

(1×8=8)

$$\begin{array}{r} 83 \\ - 73 \\ \hline \\ \hline \end{array}$$

$$\begin{array}{r} 74 \\ - 10 \\ \hline \\ \hline \end{array}$$

$$\begin{array}{r} 24 \\ - 12 \\ \hline \\ \hline \end{array}$$

$$\begin{array}{r} 32 \\ - 22 \\ \hline \\ \hline \end{array}$$

$$\begin{array}{r} 46 \\ - 26 \\ \hline \\ \hline \end{array}$$

$$\begin{array}{r} 65 \\ - 15 \\ \hline \\ \hline \end{array}$$

$$\begin{array}{r} 79 \\ - 69 \\ \hline \\ \hline \end{array}$$

$$\begin{array}{r} 62 \\ - 31 \\ \hline \\ \hline \end{array}$$

सेंट. पी. बी. एन. पब्लिक स्कूल, गुरुग्राम

Sample Paper

इकाई परीक्षा : IV

कक्षा : UKG

विषय : हिंदी

समय: 2 घंटे

अंक: 35

नाम: _____

अनुक्रमांक: _____

सामान्य निर्देश:

1. सभी प्रश्नों के उत्तर देना अनिवार्य है।
2. लेख और वर्तनी का ध्यान रखें।
3. प्रश्नों को ध्यान से पढ़कर उत्तर दीजिए।

प्रश्न 1. चित्र को देखकर शब्द लिखिए।

(1x10=10)







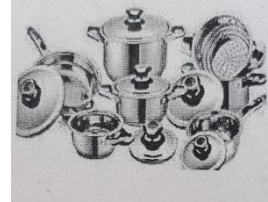


8











प्रश्न 2. चित्र को पहचानकर वाक्य पूरा करिए ।

(1x10=10)

(क) _____ पकड़ ।



(ख) सरला _____ पहन ।



(ग) बरखा _____ पकड़ ।



(घ) _____ पहन ।



(ङ) _____ मत जला ।



(च) _____ साफ कर ।



(छ) _____ साफ करके खाना खा ।




(ज) _____ पर चढ़ ।



(झ) _____ पर चल ।



(ञ) _____ खा ।



प्रश्न 3. शब्द को चित्र से मिलाइए ।

(1x5=5)

राजा



गाय



अनार



रात



बादल



प्रश्न 4. वर्णों को जोड़कर लिखिए ।

(1x5=5)

(क) पा + ल + क = _____

(ख) ट + मा + ट + र = _____

(ग) दा + दा = _____

(घ) बा + जा + र = _____

(ङ) खा + ना = _____

प्रश्न 5. श्रुतलेख लिखें।

(1x5=5)

(क) _____

(ख) _____

(ग) _____

(घ) _____

(ङ) _____